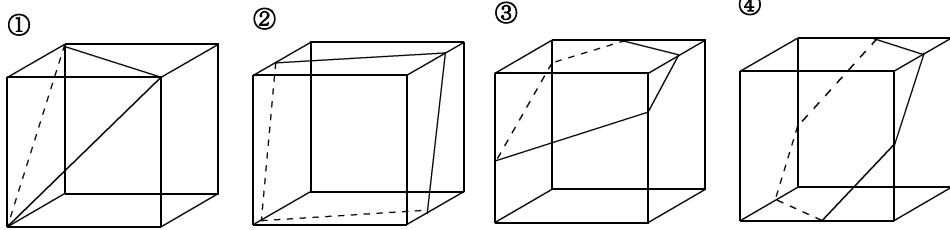
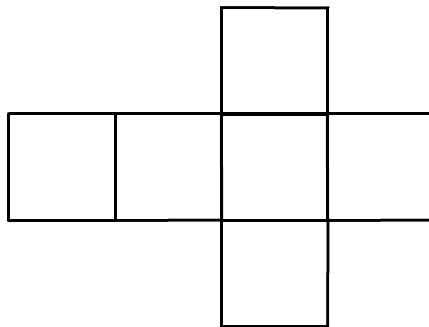


## 立方体の展開と切り口の線

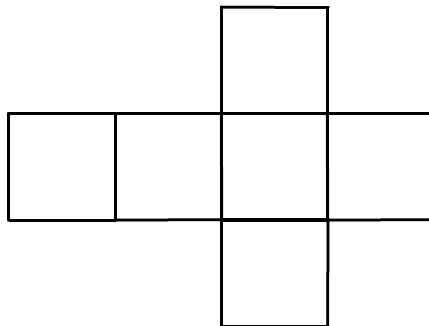
下の図は、立方体の平面で切ったときの4通りの場合を示したものである。それぞれの場合について、展開図を書き、切り口の周となる線を書き入れてみよう。



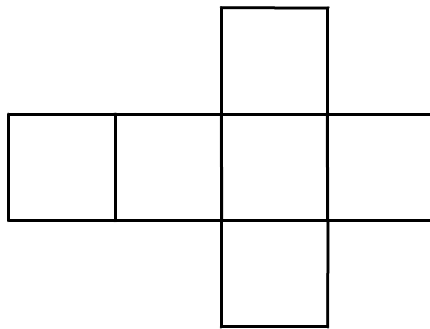
①



②



③



④

